


รวม
โจทย์

ก.พ.

ภาค ก ระดับ 3 ปริญญาตรี (ปีล่าสุด)

แนวข้อสอบอัปเดต
และเฉลยอย่างละเอียด

- รวมโจทย์สำหรับสอบ ก.พ. ภาค ก ระดับ 3 หรือระดับปริญญาตรี (ปีล่าสุด)
- มีโจทย์สำหรับสอบ ก.พ. ครบทุกวิชา ได้แก่ วิชาความสามารถในการคิดวิเคราะห์, วิชาภาษาอังกฤษ, วิชาความรู้และลักษณะการเป็นข้าราชการที่ดี
- เน้นโจทย์ที่ออกสอบบ่อย และโจทย์แนวใหม่ ที่คาดว่าจะออกสอบถึง 500 ข้อ



โดย อ.กษิติเดช สุนทรานนท์

สารบัญ

แนวข้อสอบ ก.พ. ภาค ก ระดับ 3 ชุดที่ 1.....	1
● เฉลยแนวข้อสอบ ก.พ. ภาค ก ระดับ 3 ชุดที่ 1	20
แนวข้อสอบ ก.พ. ภาค ก ระดับ 3 ชุดที่ 2.....	39
● เฉลยแนวข้อสอบ ก.พ. ภาค ก ระดับ 3 ชุดที่ 2	58
แนวข้อสอบ ก.พ. ภาค ก ระดับ 3 ชุดที่ 3.....	75
● เฉลยแนวข้อสอบ ก.พ. ภาค ก ระดับ 3 ชุดที่ 3	94
แนวข้อสอบ ก.พ. ภาค ก ระดับ 3 ชุดที่ 4.....	115
● เฉลยแนวข้อสอบ ก.พ. ภาค ก ระดับ 3 ชุดที่ 4	134
แนวข้อสอบ ก.พ. ภาค ก ระดับ 3 ชุดที่ 5.....	153
● เฉลยแนวข้อสอบ ก.พ. ภาค ก ระดับ 3 ชุดที่ 5	172

Q แนวข้อสอบ ก.พ. ภาค ก ระดับ 3 ชุดที่ 1

1. 3 3 6 18 72 ...
 1. 256
 2. 270
 3. 320
 4. 360
2. 3 6 12 23 41 ...
 1. 56
 2. 62
 3. 68
 4. 74
3. 9 28 113 566 ...
 1. 3,352
 2. 3,397
 3. 4,584
 4. 4,812
4. 60 3 56 12 52 48 48 ...
 1. 192
 2. 212
 3. 246
 4. 288
5. 21 22 19 24 17 26 ...
 1. 12
 2. 15
 3. 16
 4. 17
6. ถ้า $a = 2b$ และ $c = 3a$ อยากทราบว่า $a + b + c$ มีค่าเท่ากับข้อใด
 1. $5b$
 2. $6b$
 3. $7b$
 4. $9b$
7. ถ้า $x > y$ และ m เป็นเลขจำนวนนับ อยากทราบว่าข้อใดต่อไปนี้ไม่เป็นความจริง
 1. $mx < my$
 2. $mx > my$
 3. $(x + m) > (y + m)$
 4. $(x - m) > (y - m)$
8. น้ำเกลือจำนวน 20 ลิตร มีความเข้มข้น 50 เปอร์เซ็นต์ เมื่อระเหยน้ำออกไปจำนวน 10 ลิตร อยากทราบว่าน้ำเกลือผสมจะมีความเข้มข้นกี่เปอร์เซ็นต์
 1. 50 เปอร์เซ็นต์
 2. 80 เปอร์เซ็นต์
 3. 90 เปอร์เซ็นต์
 4. 100 เปอร์เซ็นต์
9. พ่อค้าซื้อไข่ไก่มาทั้งหมด 270 ฟอง เขาตัดไข่ออกขาย $\frac{1}{3}$ ของไข่ไก่ที่เหลืออยู่ทุกๆ วัน อยากทราบว่าภายใน 3 วัน จะมีไข่ไก่ถูกตัดออกทั้งหมดกี่ฟอง
 1. 190 ฟอง
 2. 192 ฟอง
 3. 220 ฟอง
 4. 232 ฟอง

10. กำหนดให้ $1 * 4 = 11$ และ $3 * 2 = 13$ แล้ว จงหาค่า $5 * 5 = ?$

1. 21
2. 25
3. 32
4. 33

ใช้ข้อมูลต่อไปนี้ ตอบคำถามข้อ 11-15

มูลค่าการส่งออกกระเปาะแยกตามประเภท (หน่วย : ล้านบาท)

ประเภท	พ.ศ. 2558	พ.ศ. 2559	พ.ศ. 2560
กระเปาะเดินทาง	2,458	2,684	3,551
กระเปาะสายเดี่ยว	12,448	14,845	16,749
กระเปาะถือ	9,275	8,561	9,132
กระเปาะหนัง	6,486	7,590	7,832
กระเปาะอื่นๆ	1,641	1,739	1,778
ส่วนประกอบของกระเปาะ	1,268	1,379	1,475
รวม	33,576	36,798	40,517

11. ปี พ.ศ. 2559 มูลค่าการส่งออกกระเปาะถือ คิดเป็นร้อยละเท่าใดของมูลค่าการส่งออกทั้งหมด
 1. ร้อยละ 23.26
 2. ร้อยละ 24.13
 3. ร้อยละ 25.58
 4. ร้อยละ 27.16
12. ในช่วงปี พ.ศ. 2558-2559 มูลค่าการส่งออกกระเปาะประเภทใด มีอัตราเพิ่มขึ้นในอัตราสูงสุด
 1. กระเปาะเดินทาง
 2. กระเปาะสายเดี่ยว
 3. กระเปาะหนัง
 4. กระเปาะอื่นๆ
13. ในช่วงปี พ.ศ. 2559-2560 มูลค่าการส่งออกกระเปาะประเภทใด มีอัตราเพิ่มขึ้นคิดเป็นเปอร์เซ็นต์ใกล้เคียงกับอัตราการเพิ่มขึ้นของมูลค่าการส่งออกทั้งหมดในระยะเวลาเดียวกัน
 1. กระเปาะเดินทาง
 2. กระเปาะสายเดี่ยว
 3. กระเปาะหนัง
 4. กระเปาะอื่นๆ
14. ถ้าปริมาณการส่งออกกระเปาะทุกประเภทในปี พ.ศ. 2559 มีปริมาณ 9,000 ตัน และปี 2560 มีปริมาณ 12,000 ตัน อยากทราบว่าราคาเฉลี่ยต่อตัน ข้อใดกล่าวถูกต้อง
 1. ปี พ.ศ. 2560 สูงกว่าปี พ.ศ. 2559 อยู่ 523,750 บาทต่อตัน
 2. ปี พ.ศ. 2560 สูงกว่าปี พ.ศ. 2559 อยู่ 712,250 บาทต่อตัน
 3. ปี พ.ศ. 2559 สูงกว่าปี พ.ศ. 2560 อยู่ 523,750 บาทต่อตัน
 4. ปี พ.ศ. 2559 สูงกว่าปี พ.ศ. 2560 อยู่ 712,250 บาทต่อตัน

ใช้เงื่อนไขสัญลักษณ์ต่อไปนี้ ตอบคำถามข้อ 21-25

$$3A > 3B \succ C \succ D = (E + F) \text{ และ}$$

$$D < P \neq W = F \text{ ตัวแปรทุกตัวเป็นจำนวนเต็มที่มีค่ามากกว่าศูนย์}$$

21. ข้อสรุปที่ 1 $2A > 3B$

ข้อสรุปที่ 2 $3B \neq P$

22. ข้อสรุปที่ 1 $3B \prec W$

ข้อสรุปที่ 2 $2A \prec C$

23. ข้อสรุปที่ 1 $P = C$

ข้อสรุปที่ 2 $P < C$

24. ข้อสรุปที่ 1 $B > P$

ข้อสรุปที่ 2 $D > 3A$

25. ข้อสรุปที่ 1 $3A < D$

ข้อสรุปที่ 2 $W \neq 2B$

ใช้เงื่อนไขต่อไปนี้ ตอบคำถามข้อ 26-30

- พิระพล อรอนงค์ และวีระ เลือกซื้อขนมมารับประทานคนละ 2 ชนิด ไม่ซ้ำกัน
- ขนมที่ทั้ง 3 คนซื้อ ได้แก่ ทองหยอด ทองเอก ขนมชั้น และข้าวตู ทั้งนี้ซื้อคนและขนมไม่ได้เรียงกันตามลำดับข้างต้น
- อรอนงค์ไม่ได้ซื้อขนมชั้นและข้าวตู
- วีระซื้อขนมไม่เหมือนกับอรอนงค์เลย
- มีคนซื้อทองหยอดเพียงคนเดียว
- ขนมอย่างหนึ่งที่พิระพลซื้อคือ ข้าวตู

26. ข้อสรุปที่ 1 อรอนงค์ซื้อทองหยอด

ข้อสรุปที่ 2 วีระไม่ได้ซื้อทองเอก

27. ข้อสรุปที่ 1 พิระพลซื้อทองหยอด

ข้อสรุปที่ 2 มีคนซื้อขนมชั้นเพียงคนเดียว

37. ข้อความใดเป็นลำดับที่ 4

1. มักจะมีสติปัญญาสูงกว่าคนที่ไม่ค่อยมีความคิดสร้างสรรค์
2. ความคิดสร้างสรรค์ เป็นความสามารถพิเศษซึ่งมีอยู่ในตัวบุคคล
3. และมักมีความเกี่ยวข้องกันอย่างใกล้ชิดกับระดับสติปัญญา
4. กล่าวคือ พวกเรามักพบว่าคนที่มีความคิดสร้างสรรค์

38. ข้อใดเรียงข้อความต่อไปนี้ได้ถูกต้อง

- (1) ในปัจจุบันคำว่า “สัญลักษณ์” เข้ามามีบทบาทในสังคมมากขึ้น
 - (2) ที่กำหนดขึ้นให้แทนสิ่งนั้นๆ ทั้งนี้เพื่อความง่ายต่อการจดจำ
 - (3) เป็นเสมือนตรา แทนสิ่งที่ถูกกำหนดให้ใช้สัญลักษณ์ขึ้นแทน
 - (4) เพราะสัญลักษณ์เป็นเครื่องหมายหรือลักษณะของสิ่งหนึ่งสิ่งใด
 - (5) ความจริงแล้วสัญลักษณ์ก็เปรียบเสมือนตราหรือเครื่องหมายของสิ่งต่างๆ นั่นเอง
1. (1) (3) (2) (4) (5)
 2. (1) (2) (3) (4) (5)
 3. (1) (4) (2) (3) (5)
 4. (5) (3) (2) (1) (4)

39. ข้อใดเรียงข้อความต่อไปนี้ได้ถูกต้อง

- (1) ในกิจการทางการเมืองอาจฟังดูไม่กระจ่างนัก ว่าเป็นเรื่องใกล้ตัวประการใด
 - (2) เราอาจเคยสงสัยและตั้งคำถามว่า เหตุใดมนุษย์จึงต้องปกครองกัน
 - (3) การเมืองกับการปกครองเป็นเรื่องใกล้ตัว ซึ่งหลายคนจำเพาะในกลุ่มผู้ที่ขาดความสนใจต่อความเป็นมา
 - (4) ทำไมไม่ปล่อยให้มนุษย์อยู่กันเอง กระทั่งอาจเคยได้ยินคำกล่าวที่ว่า
1. (3) (1) (4) (2)
 2. (1) (3) (2) (4)
 3. (2) (4) (3) (1)
 4. (2) (4) (1) (3)

40. จงเรียงประโยคต่อไปนี้ให้ถูกต้อง

- (1) มอมเมาด้วยอำมิสลินจ้าง รางวัล ช่มชู้ หลอกหลวง
 - (2) ประชาชนส่วนใหญ่ถูกบิดเบือน
 - (3) ไม่ได้มีผู้แทนราษฎรที่จริงจังเข้าเป็นผู้แทนของตน
 - (4) ให้ลงบัตรเลือกผู้แทนราษฎรด้วยความไม่สุจริต
1. (2) (1) (4) (3)
 2. (4) (3) (2) (1)
 3. (4) (2) (3) (1)
 4. (1) (3) (4) (2)

42. ข้อใดตีความได้ถูกต้อง

“ความรู้ที่ได้จากการสังสมมาหลายๆ ปีนั้น มีความสำคัญที่ทำให้เกิดความคิดสร้างสรรค์ เพราะทำให้เข้าใจธรรมชาติของปัญหาได้ดีกว่าเก่าก่อน เพราะมีพื้นฐานเกี่ยวกับความรู้เรื่องนั้นๆ รู้จักสังเกตและฉวยโอกาสที่เกิดขึ้น เพื่อนำมาเป็นต้นกำเนิดของความคิด ส่วนในด้านลบนั้นอาจจะทำให้เรายึดติดความรู้ที่มีอยู่มากเกินไป จนเป็นอุปสรรคในการคิดพัฒนา ต่อเติมความคิดสร้างสรรค์ ให้ออกจากกรอบระบบแบบเดิมไม่ได้”

1. ความรู้มีผลต่อการคิดสร้างสรรค์ทั้งในแง่บวกและแง่ลบ
2. ถ้าไม่มีความรู้จะทำให้ไม่สามารถคิดนอกกรอบได้
3. การมีความคิดสร้างสรรค์ได้ต้องปล่อยวาง
4. ความรู้ไม่สำคัญต่อจินตนาการ

43. “สิทธิมนุษยชนเป็นคุณธรรมที่ทำให้มนุษย์ทุกคนมีความเสมอภาคกันในศักดิ์ศรี และเท่าเทียมกัน ในสิทธิ ไม่ว่าจะอยู่ในฐานะใด พิการ หรือมีความแตกต่างกันทางเชื้อชาติ แหล่งกำเนิด เพศ วัย จึง เกิดเป็นขบวนการมนุษยชนขึ้น เพื่อที่จะคุ้มครองสิทธิมนุษยชนในระดับนานาชาติ สิทธิมนุษยชน มีพลังสำคัญทางด้านศีลธรรม และมีอิทธิพลทางการเมืองทั่วโลก รวมทั้งเป็นแนวคิดในการร่าง รัฐธรรมนูญของบรรดาประเทศต่างๆ เพื่อเป็นการสร้างความเท่าเทียมกันให้กับประชาชนในประเทศนั่นเอง”

สาระสำคัญของข้อความต่อไปนี้เป็นข้อใด

1. มนุษย์ไม่เท่าเทียมกันเพราะมีฐานะ เชื้อชาติ เพศ วัย ที่แตกต่างกัน
2. ขบวนการมนุษยชนจัดตั้งขึ้นเพื่อคุ้มครองสิทธิมนุษยชนในระดับโลก
3. สิทธิมนุษยชนคือคุณธรรมที่ทำให้มนุษย์มีความเสมอภาคกัน
4. การร่างรัฐธรรมนูญมีการใช้แนวคิดสิทธิมนุษยชนมาเกี่ยวข้อง

อ่านบทความนี้ แล้วตอบคำถามข้อ 44-45

“... คนที่มีอำนาจสร้างทั้งมิตรและศัตรู หากเสียอำนาจเมื่อไร จะโดนแก้แค้นทันที ดังนั้นจึงต้อง พยายามดำรงอำนาจไว้ตลอดเวลา เหมือนกับเหตุการณ์ปัจจุบันที่นักการเมืองฝ่ายเสียอำนาจกำลังโดนเล่น งานแบบตามล้างตามเช็ด ...”

44. จากบทความแนวคิดสำคัญมีความหมายตรงกับข้อใดมากที่สุด

1. มีลาภเสื่อมลาภ มียศเสื่อมยศ
2. ตาต่อตา ฟันต่อฟัน เป็นวิธีการของผู้ครอบครองอำนาจ
3. การไม่มีมิตรและศัตรูถาวรในวงการทางการเมือง
4. ไม่มีมิตรแท้และศัตรูถาวรของผู้มีอำนาจ

49. “คนทุกคนถูกเลี้ยงดูมาต่างกันโตมาต่างก็ย่อมมีความถนัดแตกต่างกันไปในแต่ละคน เขาย่อมสบายใจเมื่ออยู่ในแวดวงที่ความถนัดของเขาเป็นที่นิยมชมชอบ เพราะทำให้เขารู้สึกมีความสำคัญในแวดวงนั้น แต่เมื่อใดก็ตามที่แวดวงนั้นไม่ได้ยกย่องความสามารถของเขา เขาก็ย่อมรู้สึกไร้คุณค่าไปด้วย”

จากข้อความต่อไปนี้ข้อใดกล่าวไม่ถูกต้อง

1. ทุกคนพอใจที่จะได้เป็นคนสำคัญ
 2. คนเราเด่นดังไม่ได้ในทุกแวดวง
 3. บุคคลในบางแวดวงไม่นิยมผู้ด้อยกว่าตน
 4. คนที่มีความสามารถอาจรู้สึกด้อยเมื่อขาดคนยกย่อง
50. “... ในกรณีที่ผู้ว่าราชการจังหวัดเห็นว่าการดำเนินการของสภาตำบลเป็นไปโดยชอบแล้ว ให้ผู้ว่าราชการจังหวัดสั่งเพิกถอนการยับยั้งของนายอำเภอ แต่ถ้านายอำเภอไม่รายงานต่อผู้ว่าราชการจังหวัดภายใน 15 วัน นับแต่วันยับยั้ง หรือผู้ว่าราชการจังหวัดไม่วินิจฉัยภายใน 30 วัน นับแต่วันที่ได้รับเรื่อง ให้การยับยั้งของนายอำเภอและอำนาจสั่งการของผู้ว่าราชการจังหวัดเป็นอันสิ้นสุดลงตั้งแต่วันที่ครบกำหนดเวลาดังกล่าว ...”

ข้อใดสรุปได้ถูกต้องรัดกุมที่สุด

1. นายอำเภอต้องรายงานต่อผู้ว่าราชการจังหวัดโดยเคร่งครัด
 2. ผู้ว่าราชการจังหวัดต้องวินิจฉัยเรื่องที่ได้รับโดยหน้าที่
 3. อำนาจยับยั้งสามารถหมดลงได้โดยอัตโนมัติ
 4. การเพิกถอนการยับยั้งต้องเป็นไปโดยอำนาจของผู้ว่าราชการจังหวัดเท่านั้น
51. หน่วยงานใดมีหน้าที่ตรวจสอบดูแลไม่ให้มีการกำหนดตำแหน่ง หรืออัตราของข้าราชการ หรือลูกจ้างของส่วนราชการที่จัดตั้งขึ้นใหม่จากการรวมส่วนราชการโดยพระราชกฤษฎีกา
1. สำนักนายกรัฐมนตรี
 2. ก.พ.ร.
 3. สำนักงานคณะกรรมการข้าราชการพลเรือน
 4. สำนักงานคณะกรรมการข้าราชการพลเรือนและสำนักงานงบประมาณ
52. ผู้ดำรงตำแหน่งใดเป็นข้าราชการการเมือง
1. เลขาธิการนายกรัฐมนตรี
 2. ผู้ช่วยเลขาธิการคณะรัฐมนตรี
 3. รองเลขาธิการนายกรัฐมนตรีฝ่ายบริหาร
 4. ผู้ช่วยเลขาธิการนายกรัฐมนตรี
53. หน่วยงานใดมีอำนาจหน้าที่เกี่ยวกับราชการประจำทั่วไปของสำนักนายกรัฐมนตรี
1. สำนักนายกรัฐมนตรี
 2. สำนักเลขาธิการนายกรัฐมนตรี
 3. สำนักงานปลัดสำนักนายกรัฐมนตรี
 4. สำนักเลขาธิการคณะรัฐมนตรี

54. ข้อใดไม่ใช่หน่วยงานส่วนกลางตามพระราชบัญญัติระเบียบบริหารราชการแผ่นดิน พ.ศ. 2534
1. กรมส่งเสริมการปกครองท้องถิ่น
 2. จุฬาลงกรณ์มหาวิทยาลัย
 3. สำนักงานปลัดกระทรวงการต่างประเทศ
 4. สำนักงานคณะกรรมการนโยบายรัฐวิสาหกิจ
55. ข้อใดกล่าวถูกต้อง
1. กรุงเทพมหานครเป็นราชการส่วนกลาง
 2. จังหวัดเป็นราชการส่วนท้องถิ่น
 3. อำเภอเป็นราชการส่วนท้องถิ่น
 4. องค์การบริหารส่วนตำบลเป็นราชการส่วนท้องถิ่น
56. เป้าหมายการบริหารราชการของการบริหารกิจการบ้านเมืองที่ดี มีกี่เป้าหมาย
1. 5 เป้าหมาย
 2. 6 เป้าหมาย
 3. 7 เป้าหมาย
 4. 8 เป้าหมาย
57. การลดขั้นตอนโดยการกระจายอำนาจการตัดสินใจเกี่ยวกับการสั่ง การอนุญาต และการปฏิบัติราชการต้องมุ่งผลให้เกิดสิ่งใด
1. การลดขั้นตอนในการปฏิบัติงานของเจ้าหน้าที่รัฐ
 2. ความเท่าเทียมกันของการปฏิบัติงาน
 3. ความสะดวกและรวดเร็วในการบริการประชาชน
 4. ถูกทุกข้อ
58. ในกรณีการปฏิบัติภารกิจ หรือปฏิบัติตามแผนปฏิบัติราชการเกิดผลกระทบต่อประชาชน ให้เป็นหน้าที่ของใครที่จะต้องดำเนินการแก้ไข หรือบรรเทาผลกระทบนี้หรือเปลี่ยนแผนปฏิบัติราชการให้เหมาะสม
1. ก.พ.ร.
 2. คณะรัฐมนตรี
 3. รัฐมนตรีที่เกี่ยวข้องกับส่วนราชการ
 4. ส่วนราชการ
59. การปฏิบัติราชการใดสามารถเปิดเผยได้
1. การจัดซื้อเรือดำน้ำของกองทัพเรือ
 2. การรักษาความมั่นคงของประเทศ
 3. แผนป้องกันและต่อต้านกองกำลังต่างชาติ
 4. รายชื่อและเลขประจำตัวประชาชนของผู้ลงทะเบียนเข้ารับบริการในโรงพยาบาลของรัฐ

Conversation

Select the most appropriate choice for each item.

76. Waiter : ...

Customer : Yes, I would like German Pork Knuckle, Salmon Steak and
Wienerschnitzel, please!

Waiter : How about the drink?

Customer : I'll take a glass of tea.

1. Could you help me?
2. Can I help you?
3. May I have some?
4. Would you like it?

77. Jack : Hello. Can I help you?

Jane : Yes, I've got a problem with my cell phone.

Jack : ...

Jane : My cell phone is cracked.

1. What wrong with the phone screen?
2. What's the matter with it?
3. Does the phone work properly?
4. Do you want a new one?

78. Thomas : ... Do you mind if I sit here?

Jenny : No, not at all! please go ahead.

Thomas : That's very kind of you.

Jenny : No problem.

1. Nice to meet you.
2. I'm sorry.
3. Excuse me!
4. Pardon me!

79. Vipada is a guide. She is at the arrival zone. When she sees Mr. & Mrs. Robinson, she says "..."

1. Welcome to Thailand.
2. I live in Bangkok.
3. This is my friend, Weerayut.
4. I am a native of Vietnam.

80. Jason : You stepped on my foot!

Anna : ...

1. Oh! Really?
2. How about you?
3. What's wrong?
4. I'm sorry.

90. After ... for several hours, the directors decided to reject the proposed changes.

1. referring
2. inferring
3. conferring
4. preferring

Reading Comprehension

Read the following paragraph and answer the questions. (No. 91-93)

It is unbelievable that in some countries almost 40% of the people are illiterate. They do not know how to read books. And worse than that, some of them cannot write their names. In some countries, children do not go to school while in others, children leave school before graduation. As a result, children have less knowledge of the world and it is quite difficult for people to find jobs.

91. What is the best topic for this paragraph?

1. Study
2. Education
3. Difficulties
4. Graduation

92. What does “illiterate” (Line 1) mean?

1. Being difficult to find jobs.
2. Learning to read and write.
3. Leaving school before graduation.
4. Not know how to read and write.

93. What is the main idea of this paragraph?

1. People leave school at early age.
2. Children leave school before graduation.
3. There are not enough seats in school for every child.
4. It's difficult for people with less education to find jobs.

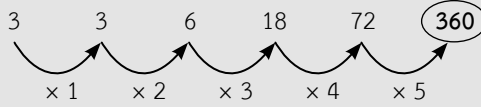
Read the following paragraph and answer the questions. (No. 94-95)

The exhausted restaurant dinner was nearing the end of his meal. He had waited the minutes before anyone had even handed him a menu; five more minutes before a waitress had come for his order; fifteen minutes more before his meat was served to him. Now, he is going to get his dessert.

“Miss,” he said to a waitress, “I’ll have some strawberry shortcake. And while you’re away, would you be good enough to drop me a postcard now and then?”

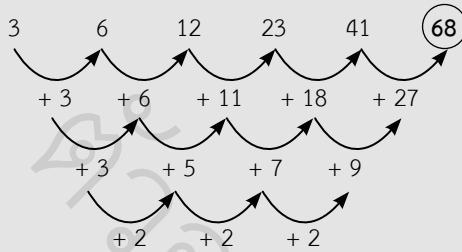
A เฉลยแนวข้อสอบ ก.พ. ภาค ก ระดับ 3 ชุดที่ 1

1. ข้อ 4 วิธีทำ พิจารณา



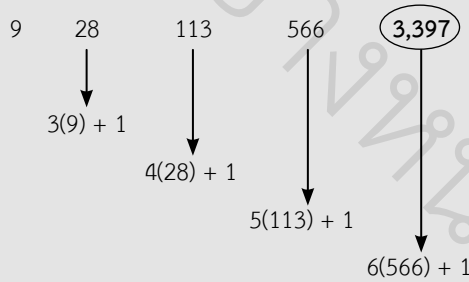
ดังนั้น คำตอบคือ 360

2. ข้อ 3 วิธีทำ พิจารณา



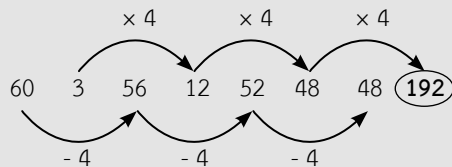
ดังนั้น คำตอบคือ 68

3. ข้อ 2 วิธีทำ พิจารณา



ดังนั้น คำตอบคือ 3,397

4. ข้อ 1 วิธีทำ พิจารณา



ดังนั้น คำตอบคือ 192

9. ตอบข้อ 1 วิธีทำ ไข่ไก่ทั้งหมด 270 ฟอง

$$\text{วันแรกคั้ดไข่ไก่ออก } \frac{1}{3} \times 270 = 90 \text{ ฟอง เหลือไข่ไก่ } 270 - 90 = 180 \text{ ฟอง}$$

$$\text{วันที่สองคั้ดไข่ไก่ออก } \frac{1}{3} \times 180 = 60 \text{ ฟอง เหลือไข่ไก่ } 180 - 60 = 120 \text{ ฟอง}$$

$$\text{วันที่สามคั้ดไข่ไก่ออก } \frac{1}{3} \times 120 = 40 \text{ ฟอง เหลือไข่ไก่ } 120 - 40 = 80 \text{ ฟอง}$$

$$\text{ดังนั้น รวม 3 วัน จะมีไข่ไก่ถูกคั้ดออกทั้งหมด } 90 + 60 + 40 = 190 \text{ ฟอง}$$

10. ตอบข้อ 2 วิธีทำ จาก $1 * 4 = 11$ และ $3 * 2 = 13$

$$\text{จะพบว่า } 1 * 4 = (1 \times 3) + (4 \times 2) = 3 + 8 = 11$$

$$\text{และ } 3 * 2 = (3 \times 3) + (2 \times 2) = 9 + 4 = 13$$

$$\text{ดังนั้น สามารถสรุปได้ว่า } 5 * 5 = (5 \times 3) + (5 \times 2) = 15 + 10 = 25$$

11. ตอบข้อ 1 วิธีทำ ปี พ.ศ. 2559 มูลค่าการส่งออกกระเป่าถั่ว 8,561 ล้านบาท

มูลค่าการส่งออกทั้งหมด 36,798 ล้านบาท

$$\text{จะได้ คิดเป็นร้อยละ } \frac{8,561 \times 100}{36,798} = 23.26$$

ดังนั้น มูลค่าการส่งออกกระเป่าถั่ว คิดเป็นร้อยละ 23.26 ของมูลค่าการส่งออกทั้งหมด

12. ตอบข้อ 2 วิธีทำ พิจารณา

ประเภท	พ.ศ. 2558	พ.ศ. 2559	เพิ่มขึ้น	คิดเป็นอัตราเพิ่มขึ้น
กระเป่าเดินทาง	2,458	2,684	$2,684 - 2,458 = 226$	$\frac{226 \times 100}{2,458} = 9.19$
กระเป่าสายเดี่ยว	12,448	14,845	$14,845 - 12,448 = 2,397$	$\frac{2,397 \times 100}{12,448} = 19.26$
กระเป่าถั่ว	9,275	8,561	*ลดลง	
กระเป่าหนัง	6,486	7,590	$7,590 - 6,486 = 1,104$	$\frac{1,104 \times 100}{6,486} = 17.02$
กระเป่าอื่นๆ	1,641	1,739	$1,739 - 1,641 = 98$	$\frac{98 \times 100}{1,641} = 5.97$
ส่วนประกอบของกระเป่า	1,268	1,379	$1,379 - 1,268 = 111$	$\frac{111 \times 100}{1,268} = 8.75$

ดังนั้น จากตารางจะพบว่า กระเป่าสายเดี่ยวยมีอัตราเพิ่มขึ้นในอัตราสูงสุด

25. ตอบข้อ 4 วิธีทำ ข้อสรุปที่ 1 $3A < D$ **ไม่เป็นจริง**

จากเงื่อนไข $3A > C \leq D$

กรณีที่ $C = D$ จะได้ $3A > D$

ดังนั้น สามารถสรุปได้ว่า $D < 3A$

ข้อสรุปที่ 2 $W \neq 2B$ **ไม่สามารถสรุปได้**

จากเงื่อนไข $3B \leq D$ และ $D < P \neq W$

เนื่องจาก $2B < 3B$ เสมอ

จะได้ $2B < P \neq W$

กรณีที่ $P > W$ จะได้ $2B < P > W$

กรณีที่ $P < W$ จะได้ $2B < W$

ดังนั้น จากทั้งสองกรณีไม่สามารถสรุปได้ว่า $2B < W$ หรือ $2B > W$

เงื่อนไขสำหรับข้อ 26-30

- พิระพล อรอนงค์ และวีระ เลือกซื้อขนมมารับประทานคนละ 2 ชนิด ไม่ซ้ำกัน
- ขนมที่ทั้ง 3 คนซื้อ ได้แก่ ทองหยอด ทองเอก ขนมชั้น และข้าวตู ทั้งนี้ซื้อคนและขนมไม่ได้เรียงกันตามลำดับข้างต้น
- อรอนงค์ไม่ได้ซื้อขนมชั้นและข้าวตู
- วีระซื้อขนมไม่เหมือนกับอรอนงค์เลย
- มีคนซื้อทองหยอดเพียงคนเดียว
- ขนมอย่างหนึ่งที่พิระพลซื้อคือ ข้าวตู

แสดงว่า

อรอนงค์ซื้อทองหยอด และทองเอก

วีระซื้อขนมชั้น และข้าวตู

พิระพลซื้อข้าวตู และไม่สามารถสรุปได้ว่าซื้อทองเอก หรือขนมชั้น

26. ตอบข้อ 1 เพราะ ข้อสรุปที่ 1 อรอนงค์ซื้อทองหยอด **เป็นจริง**

เนื่องจาก อรอนงค์ซื้อทองหยอดและทองเอก

ข้อสรุปที่ 2 วีระไม่ได้ซื้อทองเอก **เป็นจริง**

เนื่องจาก วีระซื้อขนมชั้นและข้าวตู

27. ตอบข้อ 4 เพราะ ข้อสรุปที่ 1 พิระพลซื้อทองหยอด **ไม่เป็นจริง**

เนื่องจาก พิระพลไม่ได้ซื้อทองหยอดแน่นอน

ข้อสรุปที่ 2 มีคนซื้อขนมชั้นเพียงคนเดียว **ไม่สามารถสรุปได้**

เนื่องจาก ไม่รู้ว่าพิระพลซื้อขนมชั้นด้วยหรือไม่

28. ตอบข้อ 2 เพราะ ข้อสรุปที่ 1 วีระซื้อทองหยอด **ไม่เป็นจริง**

เนื่องจาก วีระซื้อขนมชั้นและข้าวตู

ข้อสรุปที่ 2 ขนมชั้นเป็นขนมที่อรอนงค์ซื้อ **ไม่เป็นจริง**

เนื่องจาก อรอนงค์ซื้อทองหยอดและทองเอก

26. ตอบข้อ 3 วิธีทำ พิจารณา

ข้อสรุปที่ 1 E มีค่าเท่ากับ 32	ข้อสรุปที่ 2 G มีค่ามากที่สุด
ข้อสรุปไม่แน่ชัด เพราะ E มีค่าตั้งแต่ 27-35	ข้อสรุปไม่แน่ชัด เพราะ ค่ามากที่สุดอาจเป็น F หรือ G ก็ได้

27. ตอบข้อ 2 วิธีทำ พิจารณา

ข้อสรุปที่ 1 ค่าต่ำสุดของ A ที่เป็นไปได้คือ 18	ข้อสรุปที่ 2 ค่ามากที่สุดของ D คือ 14
ข้อสรุปไม่เป็นจริง เพราะ ค่าต่ำสุดของ A ที่เป็นไปได้คือ 10	ข้อสรุปไม่เป็นจริง เพราะ ค่ามากที่สุดของ D คือ 15

28. ตอบข้อ 3 วิธีทำ พิจารณา

ข้อสรุปที่ 1 B + D จะน้อยกว่า A	ข้อสรุปที่ 2 E ไม่เท่ากับ B + C
ข้อสรุปไม่แน่ชัด เพราะ B+D อาจน้อยกว่า หรือเท่ากับ หรือมากกว่า A ก็ได้ ถ้า B = 11, D = 7 และ A = 19 จะได้ B + D < A ถ้า B = 12, D = 8 และ A = 20 จะได้ B + D = A ถ้า B = 13, D = 9 และ A = 21 จะได้ B + D > A	ข้อสรุปไม่แน่ชัด เพราะ E อาจไม่เท่ากับ B + C ก็ได้ ถ้า E = 27, B = 11 และ C = 15 จะได้ E > B + C ถ้า E = 28, B = 12 และ C = 16 จะได้ E = B + C ถ้า E = 29, B = 13 และ C = 17 จะได้ E < B + C

29. ตอบข้อ 4 วิธีทำ พิจารณา

ข้อสรุปที่ 1 F มากกว่า C เท่ากับ G มากกว่า D	ข้อสรุปที่ 2 C มีค่ามากกว่า G อยู่ 12
ข้อสรุปไม่แน่ชัด เพราะ F มากกว่า C อาจเท่ากับหรือน้อยกว่า G มากกว่า D	ข้อสรุปไม่เป็นจริง เพราะ C มีค่าน้อยกว่า G เสมอ

30. ตอบข้อ 1 วิธีทำ พิจารณา

ข้อสรุปที่ 1 E มีค่ามากกว่า C เสมอ	ข้อสรุปที่ 2 ถ้า B เท่ากับ 13 ค่าของ A คือ 21
ข้อสรุปเป็นจริง เพราะ E มีค่ามากกว่า C เท่ากับ 12	ข้อสรุปเป็นจริง เพราะ ถ้า B เท่ากับ 13 ค่าของ A คือ 21

42. **ตอบข้อ 1** เพราะ สังเกตได้จากประโยค “ความรู้ที่ได้จากการสั่งสมมาหลายๆ ปีนั้น มีความสำคัญที่ทำให้เกิดความคิดสร้างสรรค์ เพราะ ...” และ “ในด้านลบนั้นอาจจะทำให้เรายึดติดความรู้ที่มีอยู่มากเกินไป ...” เป็นสิ่งที่ผู้เขียนต้องการกล่าวว่าคุณรู้มีผลต่อการคิดสร้างสรรค์ทั้งในแง่บวกและแง่ลบ
43. **ตอบข้อ 3** เพราะ สังเกตได้จาก “สิทธิมนุษยชนเป็นคุณธรรมที่ทำให้มนุษย์ทุกคนมีความเสมอภาคกันในศักดิ์ศรี และเท่าเทียมกันในสิทธิ ...” ส่วนข้อความส่วนอื่นเป็นส่วนขยายเพื่ออธิบายรายละเอียดของสาระสำคัญข้างต้น
44. **ตอบข้อ 2** เพราะ จากบทความ แนวคิดสำคัญมีความหมายคือ ตาต่อตา ฟันต่อฟัน เป็นวิธีการของผู้ครอบครองอำนาจ เป็นวิธีการแก้แค้นฝ่ายตรงข้ามโดยใช้วิธีเดียวกันกับที่ถูกกระทำก่อน
45. **ตอบข้อ 3** เพราะ จากบทความ ความรู้สึกของผู้เขียนต้องการสื่อว่าไม่เห็นด้วยกับเรื่องการใช้อำนาจของผู้มีอำนาจขณะที่มีอำนาจอยู่ในมือ เพราะจะทำให้สังคมไม่สงบสุข
46. **ตอบข้อ 2** เพราะ ในบทความเป็นการสอนเรื่องเกี่ยวกับการเลือกคนทำงาน โดยเปรียบเทียบว่าคนเลวยังพอทำงานได้ ต่างจากคนโง่ที่ทำงานไม่ได้และยังสร้างความเสียหาย
47. **ตอบข้อ 4** เพราะ จากประโยค “นับแต่เนี่ไปผู้เกี่ยวข้องทุกฝ่ายโดยเฉพาะสถานศึกษาจะต้องคิดหาวิธีที่ได้ประสิทธิภาพและทันการณ์” แสดงให้เห็นว่า ผู้เขียนต้องการให้สถานศึกษาแก้ปัญหาความรุนแรงที่เกิดขึ้น
48. **ตอบข้อ 4** เพราะ จากข้อความแสดงว่า เป็นบุคคลที่ตั้งมั่นในความซื่อสัตย์สุจริต วิริยะอุตสาหะด้วยน้ำพักน้ำแรง
49. **ตอบข้อ 3** เพราะ ข้อความไม่ได้กล่าวถึงว่า บุคคลในบางวงการไม่นิยมผู้ด้อยกว่าตน
50. **ตอบข้อ 3** เพราะ หากเกินระยะเวลาที่กำหนดโดยไม่จำเป็น ต้องผ่านความเห็นชอบของนายอำเภอและผู้ว่าราชการจังหวัดอีก ข้ออื่นเป็นการสรุปเกินความ
51. **ตอบข้อ 4** เพราะ พระราชบัญญัติระเบียบบริหารราชการแผ่นดิน พ.ศ. 2534 มาตรา 8 ทวิ วรรคสาม กำหนดหลักเกณฑ์ว่า ให้สำนักงานคณะกรรมการข้าราชการพลเรือนและสำนักงานงบประมาณ มีหน้าที่ตรวจสอบดูแลมิให้มีการกำหนดตำแหน่ง หรืออัตราของข้าราชการ หรือลูกจ้างของส่วนราชการที่จัดตั้งขึ้นใหม่ หรือที่ถูกรวมหรือโอนไปตามวรรคหนึ่ง เพิ่มขึ้นจนกว่าจะครบกำหนด 3 ปี นับแต่วันที่พระราชกฤษฎีกาตามวรรคหนึ่งมีผลใช้บังคับ
52. **ตอบข้อ 1** เพราะ พระราชบัญญัติระเบียบบริหารราชการแผ่นดิน พ.ศ. 2534 มาตรา 13 กำหนดหลักเกณฑ์ว่า สำนักเลขาธิการนายกรัฐมนตรี มีอำนาจหน้าที่เกี่ยวกับราชการทางการเมือง มีเลขาธิการนายกรัฐมนตรีเป็นผู้บังคับบัญชาข้าราชการและรับผิดชอบในการปฏิบัติราชการขึ้นตรงต่อนายกรัฐมนตรี และให้มีรองเลขาธิการนายกรัฐมนตรีฝ่ายการเมืองและรองเลขาธิการนายกรัฐมนตรีฝ่ายบริหารเป็นผู้ช่วยสั่งและปฏิบัติราชการ และจะให้มีผู้ช่วยเลขาธิการนายกรัฐมนตรีเป็นผู้ช่วยสั่งและปฏิบัติราชการด้วยก็ได้
- ให้เลขาธิการนายกรัฐมนตรีและรองเลขาธิการนายกรัฐมนตรีฝ่ายการเมือง เป็นข้าราชการการเมือง และให้รองเลขาธิการนายกรัฐมนตรีฝ่ายบริหาร และผู้ช่วยเลขาธิการนายกรัฐมนตรี เป็นข้าราชการพลเรือนสามัญ

56. **ตอบข้อ 3** เพราะ พระราชกฤษฎีกาว่าด้วยหลักเกณฑ์และวิธีการบริหารกิจการบ้านเมืองที่ดี พ.ศ. 2546 มาตรา 6 กำหนดหลักเกณฑ์ว่า การบริหารกิจการบ้านเมืองที่ดี ได้แก่ การบริหารราชการเพื่อบรรลุปเป้าหมาย ดังต่อไปนี้
- (1) เกิดผลประโยชน์สุขของประชาชน
 - (2) เกิดผลสัมฤทธิ์ต่อภารกิจของรัฐ
 - (3) มีประสิทธิภาพและเกิดความคุ้มค่าในเชิงภารกิจของรัฐ
 - (4) ไม่มีขั้นตอนในการปฏิบัติงานเกินความจำเป็น
 - (5) มีการปรับปรุงภารกิจของส่วนราชการให้ทันต่อสถานการณ์
 - (6) ประชาชนได้รับการอำนวยความสะดวกและได้รับการตอบสนองความต้องการ
 - (7) มีการประเมินผลการปฏิบัติราชการอย่างสม่ำเสมอ
57. **ตอบข้อ 3** เพราะ พระราชกฤษฎีกาว่าด้วยหลักเกณฑ์และวิธีการบริหารกิจการบ้านเมืองที่ดี พ.ศ. 2546 มาตรา 27 วรรคแรก กำหนดหลักเกณฑ์ว่า ให้ส่วนราชการจัดให้มีการกระจายอำนาจการตัดสินใจ เกี่ยวกับการสั่ง การอนุญาต การอนุมัติ การปฏิบัติราชการ หรือการดำเนินการอื่นใดของผู้ดำรงตำแหน่งใดให้แก่ผู้ดำรงตำแหน่งที่มีหน้าที่รับผิดชอบในการดำเนินการในเรื่องนั้นโดยตรง เพื่อให้เกิดความรวดเร็วและลดขั้นตอนการปฏิบัติราชการ ทั้งนี้ในการกระจายอำนาจการตัดสินใจ ดังกล่าว ต้องมุ่งผลให้เกิดความสะดวกและรวดเร็วในการบริการประชาชน
58. **ตอบข้อ 4** เพราะ พระราชกฤษฎีกาว่าด้วยหลักเกณฑ์และวิธีการบริหารกิจการบ้านเมืองที่ดี พ.ศ. 2546 มาตรา 9 (4) กำหนดหลักเกณฑ์ว่า ในกรณีที่การปฏิบัติภารกิจ หรือการปฏิบัติตามแผนปฏิบัติราชการเกิดผลกระทบต่อประชาชน ให้เป็นหน้าที่ของส่วนราชการที่จะต้องดำเนินการแก้ไขหรือบรรเทาผลกระทบนั้น หรือเปลี่ยนแผนปฏิบัติราชการให้เหมาะสม
59. **ตอบข้อ 1** เพราะ พระราชกฤษฎีกาว่าด้วยหลักเกณฑ์และวิธีการบริหารกิจการบ้านเมืองที่ดี พ.ศ. 2546 มาตรา 44 วรรคแรก กำหนดหลักเกณฑ์ว่า ส่วนราชการต้องจัดให้มีการเปิดเผยข้อมูลเกี่ยวกับงบประมาณรายจ่ายแต่ละปี รายการเกี่ยวกับการจัดซื้อหรือจัดจ้างที่จะดำเนินการใน ปีงบประมาณนั้น และสัญญาใดๆ ที่ได้มีการอนุมัติให้จัดซื้อหรือจัดจ้างแล้ว ให้ประชาชนสามารถขอดูหรือตรวจสอบได้ ณ สถานที่ทำการของส่วนราชการ และระบบเครือข่ายสารสนเทศของส่วนราชการ ทั้งนี้ การเปิดเผยข้อมูลดังกล่าวต้องไม่ก่อให้เกิดความได้เปรียบหรือเสียเปรียบหรือความเสียหายแก่บุคคลใดในการจัดซื้อหรือจัดจ้าง
60. **ตอบข้อ 2** เพราะ พระราชกฤษฎีกาว่าด้วยหลักเกณฑ์และวิธีการบริหารกิจการบ้านเมืองที่ดี พ.ศ. 2546 มาตรา 45 กำหนดหลักเกณฑ์ว่า ให้ส่วนราชการจัดให้มีคณะผู้ประเมินอิสระดำเนินการประเมินผลการปฏิบัติราชการของส่วนราชการ เกี่ยวกับผลสัมฤทธิ์ของภารกิจตามหลักเกณฑ์ที่ ก.พ.ร. กำหนด
61. **ตอบข้อ 4** เพราะ พระราชบัญญัติวิธีปฏิบัติราชการทางปกครอง พ.ศ. 2539 มาตรา 35 กำหนดหลักเกณฑ์ว่า ในกรณีที่คำสั่งทางปกครองเป็นคำสั่งด้วยวาจา ถ้าผู้รับคำสั่งนั้นร้องขอและการร้องขอได้กระทำโดยมิเหตุอันสมควรภายใน 7 วัน นับแต่วันที่มีคำสั่งดังกล่าว เจ้าหน้าที่ที่ผู้ออกคำสั่งต้องยืนยันคำสั่งนั้นเป็นหนังสือ

77. **ตอบข้อ 2** เพราะ คำตอบที่ถูกต้องคือ What's the matter with it? (เกิดอะไรขึ้น?) เป็นการสอบถามว่าเกิดอะไรขึ้นกับเครื่องโทรศัพท์มือถือ ส่วนตัวเลือกข้ออื่นๆ แปลได้ดังนี้
- What wrong with the phone screen? (เกิดอะไรขึ้นกับหน้าจอโทรศัพท์?)
 - Does the phone work properly? (โทรศัพท์ทำงานปกติดีไหม?)
 - Do you want a new one? (คุณอยากได้อันใหม่ไหม?)
78. **ตอบข้อ 3** เพราะ ใช้ Excuse me! เพราะเป็นการขอความสนใจเพื่อเปิดการสนทนาครั้งแรกอย่างมีมารยาท ส่วนตัวเลือกข้ออื่นๆ แปลได้ดังนี้
- Nice to meet you. (ยินดีที่ได้พบคุณ)
 - I'm sorry. (ฉันเสียใจ)
 - Pardon me! (ประทานโทษครับ)
79. **ตอบข้อ 1** เพราะ วิภาดาเป็นมัคคุเทศก์ เธออยู่ตรงบริเวณพื้นที่ผู้โดยสารขาเข้า (ในสนามบิน) เมื่อเธอพบ นายและนางโรบินสัน เธอจึงพูดว่า Welcome to Thailand. (ยินดีต้อนรับสู่ประเทศไทย) ส่วนตัวเลือกข้ออื่นๆ แปลได้ดังนี้
- I live in Bangkok. (ฉันอาศัยอยู่ที่กรุงเทพฯ)
 - This is my friend Weerayut. (นี่คือเพื่อนของฉัน วีรยุทธ)
 - I am a native of Vietnam. (ฉันเป็นคนเวียดนาม)
80. **ตอบข้อ 4** เพราะ คำตอบที่ถูกต้องควรจะเป็น I'm sorry. (ฉันขอโทษนะ) เนื่องจากเป็นคำตอบที่เหมาะสมเมื่อเราทำให้ผู้อื่นเดือดร้อน ส่วนตัวเลือกข้ออื่นๆ แปลได้ดังนี้
- Oh! Really? (โอ้ จริงหรือ?)
 - How about you? (คุณเป็นยังไงบ้าง?)
 - What's wrong? (เป็นอะไรหรือ?)
81. **ตอบข้อ 1** เพราะ Spreading false news will bring our society down. Don't believe the ... until the truth is revealed. (การกระจายข่าวที่ไม่เป็นความจริงจะทำให้สังคมของเราตกต่ำลง) ดังนั้น คำตอบที่ถูกต้องคือ rumours (ข่าวลือ) ส่วนตัวเลือกข้ออื่นๆ แปลได้ดังนี้
- comments (วิจารณ์)
 - facts (ข้อเท็จจริง)
 - reports (รายงาน)

96. **ตอบข้อ 4** เพราะ บทความกล่าวถึงประสบการณ์ของชายคนหนึ่งที่ได้ชมภาพยนตร์สองของขวัญ เมื่อภาพยนตร์เลิกเขาก็มาขึ้นรถแท็กซี่ ในขณะที่รถบข มีฝนตกพริ้วๆ ปรากฏว่าไม่มีรถผ่านมาสักคัน เขาจึงเดินไปที่ป้ายรถประจำทาง เพียง 2-3 นาทีต่อมา มีรถผ่านมาหนึ่งคัน แต่ไม่จอดเพราะมีผู้โดยสารเต็มรถ เมื่อเวลาผ่านไปนานขึ้นฝนเริ่มตกหนัก ฟ้าก็เริ่มมืดกว่าเดิม เขาได้ยินเสียงร้อง “ปีเตอร์ ปีเตอร์ ช่วยด้วย” เขารู้สึกกลัวมากอยากวิ่งหนีแต่เขาไม่ยอมขยับ ทันใดนั้นเพื่อนของเขาชื่อแจ็กก็ขับรถสกู๊ตเตอร์ผ่านมาพอดีและพาเขากลับบ้านอย่างปลอดภัย
- โจทย์ถามว่า ผู้เขียนกำลังกลับบ้านจากการไปที่ใด
- ดังนั้น คำตอบที่ถูกต้องคือ the cinema (โรงภาพยนตร์)
- ส่วนตัวเลือกข้ออื่นๆ แปลได้ดังนี้
- the shop (ร้านค้า)
 - the play (การเล่น)
 - Jack’s house (บ้านของแจ็ก)
97. **ตอบข้อ 2** เพราะ โจทย์ถามว่า ผู้เขียนจอดรถประจำทางเพราะเหตุใด
- ดังนั้น คำตอบที่ถูกต้องคือ he couldn’t get a taxi (ผู้เขียนหารรถแท็กซี่ไม่ได้)
- ส่วนตัวเลือกข้ออื่นๆ แปลได้ดังนี้
- the taxi did not stop (แท็กซี่ไม่ยอมจอด)
 - it was raining (ฝนกำลังตก)
 - it was growing darker (เริ่มมืดขึ้น)
98. **ตอบข้อ 4** เพราะ จากบทความเรารู้ว่าผู้เขียนกลับบ้านด้วยวิธีใด
- ดังนั้น คำตอบที่ถูกต้องคือ on a scooter (รถสกู๊ตเตอร์)
- ส่วนตัวเลือกข้ออื่นๆ แปลได้ดังนี้
- by taxi (รถแท็กซี่)
 - by bus (รถประจำทาง)
 - on foot (เดินเท้า)
99. **ตอบข้อ 1** เพราะ คำว่า drizzling หมายถึง raining (ฝนตก)
100. **ตอบข้อ 4** เพราะ ชื่อบทความที่เหมาะสมที่สุดคือ A Frightening Night (คืนสยองขวัญ) เพราะเรื่องที่เล่ามาเป็นเรื่องน่ากลัว ทั้งภาพยนตร์สองขวัญ บรรยากาศที่น่ากลัว เสียงแปลกๆ ที่ได้ยิน
- ส่วนตัวเลือกข้ออื่นๆ แปลได้ดังนี้
- A Bad Film (หนังแย่ๆ)
 - A Bad Dream (ฝันร้าย)
 - A Dark Night (คืนฟ้ามืด)